

السنة الأولى ابتدائي

الأعداد الى 19 (1)

الاسم و اللقب :

أكمل الشريط العددي بوضع الأعداد في مكانها المناسب



1 2 3 ... 5 6 ... 8 9 10

17 11 4

... 12 ... 14 ... 16 ... 18 ...

7 19 13

ألون طريق الفأر للوصول الى الجبن باتباع الاعداد من 1 الى 19



19

 1
 الى الجين
 باتباع
 الاعداد
 من

	0	6	7	8	1	
1	5	5	12	9	5	
2	3	4	3	10	11	
6	5	8	1	7	12	
8	9	10	15	14	13	
	19	18	17	16	3	2



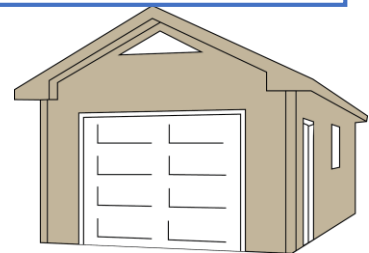
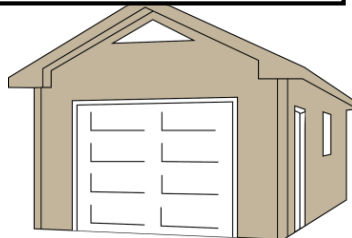
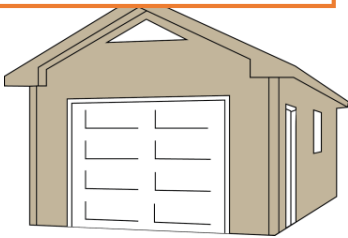
أربط كل سيارة بالمرآب المناسب



سَبْعَة عَشَرَ

سِتَّة عَشَرَ

تِسْعَة عَشَرَ



أكتب العدد المناسب




ألون 12 بقعة من بقع الزرافة



والونه



ابحث عن العدد 13



ألون العدد سبعة عشر



☆ 17	☆ 77	☆ 7
☆ 07	☆ 71	☆ 71
☆ 17	☆ 15	☆ 70

أصل الأرقام بالترتيب وألون الرسم المتحصل عليه

